

受 験 番 号

令和 8 年度 中学校入学試験問題

社 会 (2 次) (時間 45 分)

〔注意事項〕

1. 試験開始の合図まで中を開いてはいけません。
2. 受験番号を問題用紙・解答用紙の決められた欄らんに必ず記入しなさい。
3. 問題がぬけていたり、印刷がはっきりしなかったりする場合は申し出なさい。
4. 解答は必ず解答用紙の決められた箇所かしょに記入しなさい。
5. 何か用事のできた時には「はい」と言って手をあげなさい。しかし、問題の内容についての質問はしてはいけません。
6. 漢字を使用すべきところは指定されていないところも含めて、漢字で書きなさい。
7. 選択肢から答えを選ぶ問題は、選択肢の記号で答えなさい。

- 1 2025年に中学1年生になったゆいさんは入学後におこった国内外の気になるニュースをカードにまとめました。これを読んで、各問に答えなさい。

#### 4月

2025年日本国際博覧会、略称「( a )・関西万博」が「いのち輝く未来社会のデザイン」をテーマに開幕した。私が気になっているイベントはテーマウィーク。特に夏休み中に行われる「平和と(b)人権」というテーマに興味があるため、万博に行ってみたい。

#### 5月

- ・ローマ教皇庁のシスティーナ礼拝堂で枢機すうき卿きょうらによる( c )と呼ばれる選挙が行われた。この選挙により第267代教皇が選ばれ、教皇名はレオ14世に決まった。
- ・小泉進次郎氏が(d)農林水産大臣に就任し、高騰こうとうする( e )の(f)価格を抑えるため、備蓄( e )を業者に売りわたす際に「随意契約ずい い けい やく」を検討すると表明した。

問1 空欄( a )にあてはまる語句を答えなさい。

問2 下線部( b )に関連して、基本的人権は、平等権、自由権、社会権、参政権、請求権の5つに分類されます。次の基本的人権に関するX・Yの文がそれぞれどの権利に分類されるか、ふさわしいものを語群のア～オから1つずつ選びなさい。

X. 労働者が賃上げ要求のためのストライキを行った。

Y. 私は教員になるため大学に進学した。

【語群】

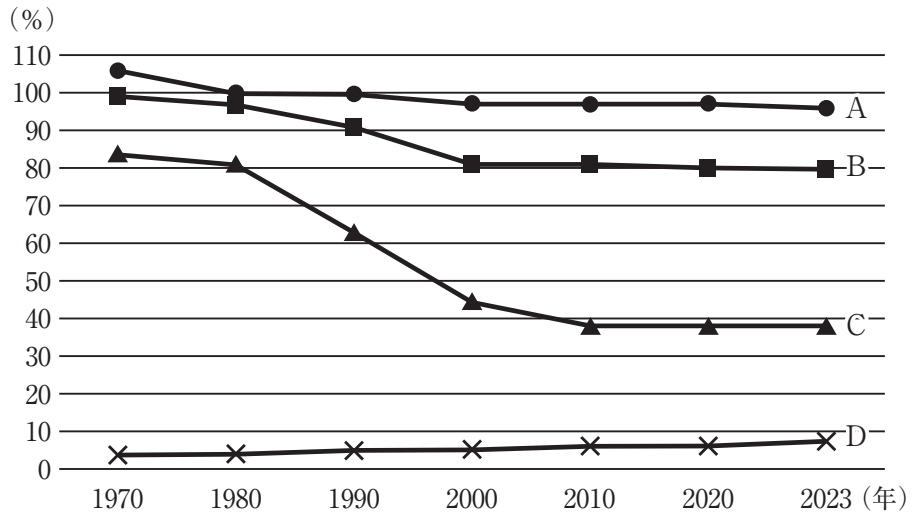
ア. 平等権    イ. 自由権    ウ. 社会権    エ. 参政権    オ. 請求権

問3 空欄( c )にあてはまる語句をカタカナ6文字で答えなさい。

問4 下線部( d )に関連して、各問に答えなさい。

- ① 国務大臣は通常14人以内で構成されます。国務大臣が14人の場合、その中で国会議員は最低何人でなければならないか答えなさい。

- ② 次のグラフは日本のおもな食料の自給率（重量ベース）の変化を示したものです。このグラフから読み取れるものとしてふさわしいものをア～エから1つ選びなさい。



（農林水産省『食料需給表』より作成）

- ア. 魚介類の自給率を示したAはほぼ100%を超えているので自給ができています。
- イ. 野菜の自給率を示したBは冷凍野菜の輸入増加のため自給率が急速に低下している。
- ウ. 鶏卵の自給率を示したCはフードマイレージを減らすことができている。
- エ. 大豆の自給率を示したDは10%を上回ったことがないため輸入に頼る部分が多い。

問5 空欄（ e ）にあてはまる語句を答えなさい。

問6 下線部（f）に関連して、多くの商品の価格は需要と供給によって決まります。価格が上がっていくのはどのような時か、最もふさわしいものをア～エから1つ選びなさい。

- ア. 需要量が供給量を上回った時
- イ. 供給量が需要量を上回った時
- ウ. 需要量と供給量がともに同じ割合で増えた時
- エ. 需要量と供給量がともに同じ割合で減った時

6月

主要7か国首脳会議が  
( g ) 西部のカナナス  
キスで開催された。

7月

(h)国会議員を決める (i)参議院議員選挙が行われた。  
( j ) 者数は2618万2089人であり、過去最多を記  
録した。(k)投票率は58.51%であった。

問7 空欄 ( g ) にあてはまる国名としてふさわしいものをア～エから1つ選びな  
さい。

- ア. アメリカ      イ. イギリス      ウ. フランス      エ. カナダ

問8 下線部 (h) に関連して、各問に答えなさい。

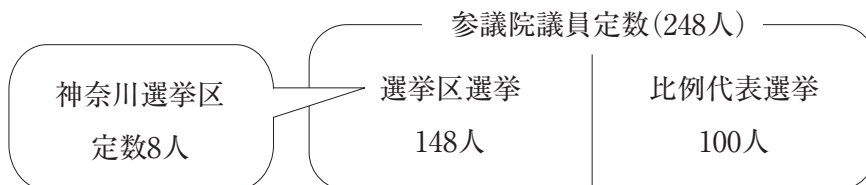
- ① 日本国憲法の条文中の空欄 ( X ) ・ ( Y ) にあてはまる語句をそれぞれ答  
えなさい。

第41条 国会は、国権の ( X ) 機関であつて、国の唯一の ( Y )  
機関である。

- ② 国会における予算の審議について説明した文としてふさわしくないものをア～エ  
から1つ選びなさい。

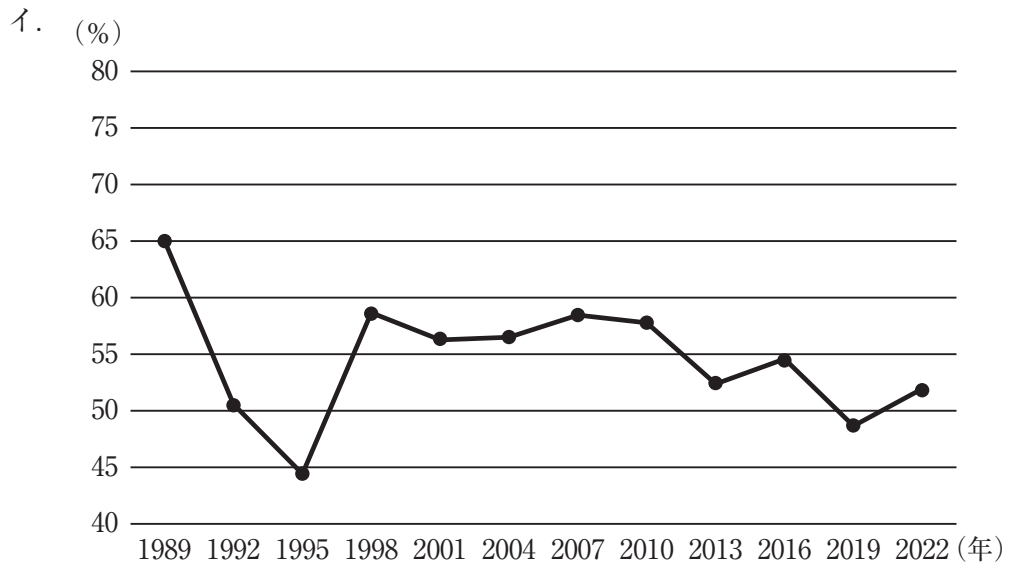
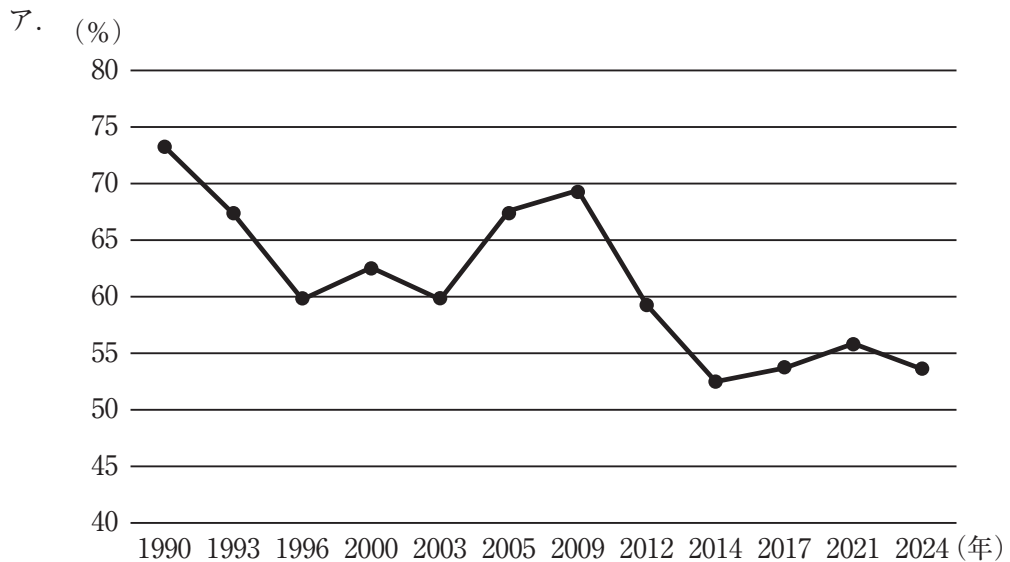
- ア. 予算は内閣が作成して国会に提出する。  
イ. 予算は衆議院が必ず先に審議する。  
ウ. 各議院の予算の議決は出席議員の過半数が賛成すれば可決となる。  
エ. 衆参両議院が異なる議決をし、両院協議会を開いても意見が一致しない時、  
その予算は廃案となる。

問9 下線部 (i) に関連して、参議院議員選挙は選挙区選挙と比例代表選挙からなり  
ます。選挙区選挙では、全国45選挙区でそれぞれ定数が決められ、各選挙区で得  
票数の多い順に当選者が決定します。神奈川選挙区の定数は8人ですが、今回の選  
挙(2025年7月実施)で神奈川選挙区からは何人の当選者が出ましたか。次の図  
を参考にして、その人数を答えなさい。



問10 空欄（ j ）には、選挙投票日より前であっても投票日と同じく投票を行うことができる仕組みを示す語句が入ります。その語句を漢字5文字で答えなさい。

問11 下線部（k）に関連して、次のグラフは国会の2つの議院それぞれの投票率の推移を示したものです。衆議院のグラフを示したものはア・イのどちらか、解答欄のふさわしい方を○で囲みなさい。また、それを選んだ理由を解答欄に合うように答えなさい。



(総務省資料より作成)

2 次の会話文を読んで、各問に答えなさい。

ちひろ：2024年に日本の国立公園が1つ増えたのを知っていましたか？

ゆい：(a)北海道唯一の山脈を中心とした「(b)山脈<sup>えりも</sup>襟裳十勝国立公園」ですよ。

ちひろ：2017年に(c)指定された(d)<sup>あまみ</sup>「奄美群島国立公園」につづき、35か所目だそうです。

ゆい：他にも指定されている場所を詳しく見てみると面白いですね。

ちひろ：日本一広い国立公園は、日本で最初に指定された国立公園の1つである(e)<sup>瀬戸内海</sup>「瀬戸内海国立公園」と分かりました。

ゆい：同じく最初に指定された<sup>霧島</sup>「霧島国立公園」は現在の<sup>霧島錦江湾</sup>「霧島錦江湾国立公園」の一部で、九州地方で最も高い山のある(f)島を中心とする「(f)島国立公園」は2012年にそこから分離したのですよね。

ちひろ：他にも「日光国立公園」には(g)<sup>日本</sup>で最も標高が高いところにあるともいわれる湖があることで知られています。

ゆい：日本以外にも国立公園はあるのでしょうか。

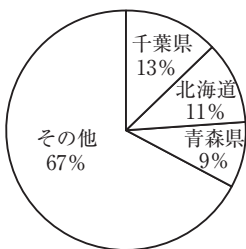
ちひろ：あります。世界で初めての国立公園は1872年に(h)<sup>アメリカ</sup>で指定された「イエローストーン国立公園」です。

ゆい：有名な<sup>かんけつせん</sup>間欠泉を見るために毎年多くの人を訪れていて、(i)資源になっていますね。

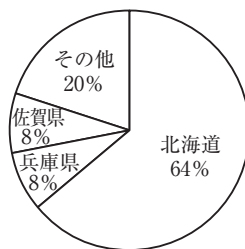
ちひろ：国立公園はその地域の(j)<sup>自然</sup>や景観などの保護だけでなく、(i)産業のために利用する目的もあるのですね。

問1 下線部(a)に関連して、次のグラフは、さくらんぼ・だいこん・じゃがいも・たまねぎの産地を示したものです。たまねぎを示したものとしてふさわしいものをア～エから1つ選びなさい。

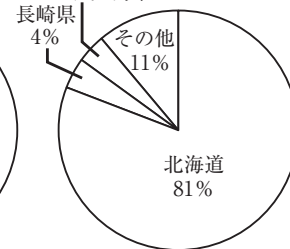
ア.



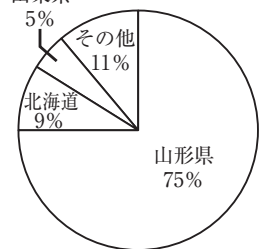
イ.



ウ.

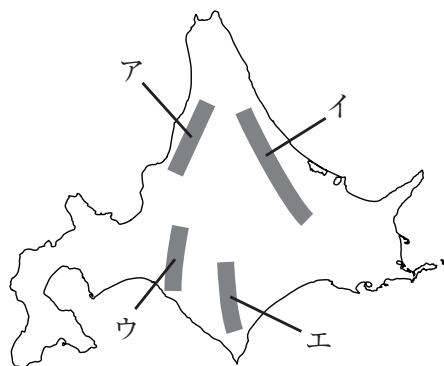


エ.



(『日本国勢図会 2025/26』より作成)

問2 空欄（ b ）にあてはまる山脈の名を答えなさい。またその位置としてふさわしいものを右の地図中ア～エから1つ選びなさい。



問3 下線部（ c ）に関連して、国立公園を指定する省庁はどこか、ふさわしいものをア～エから1つ選びなさい。

- ア. 総務省      イ. 環境省      ウ. 経済産業省      エ. 農林水産省

問4 下線部（ d ）と同様に、世界自然遺産の地域を含む国立公園ではないものはどれか、ア～エから1つ選びなさい。

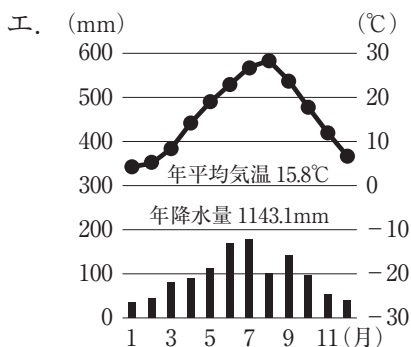
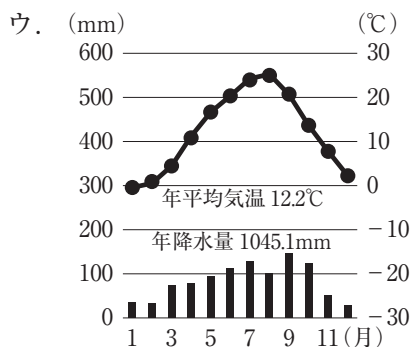
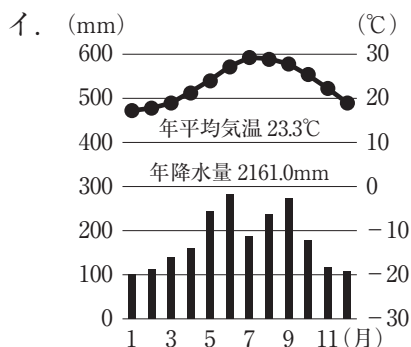
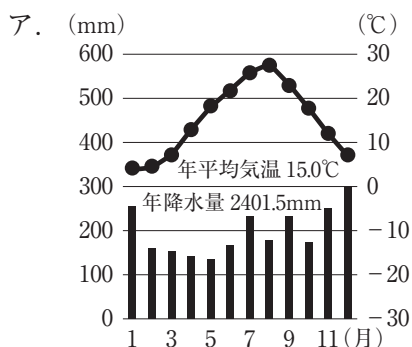
- ア. 小笠原国立公園      イ. 知床国立公園  
 ウ. 尾瀬国立公園      エ. やんばる国立公園

問5 下線部（ e ）に関連して、各問に答えなさい。

① 瀬戸内海国立公園の範囲に含まれない県をア～エから1つ選びなさい。

- ア. 高知県      イ. 岡山県      ウ. 福岡県      エ. 兵庫県

② 瀬戸内地方の雨温図としてふさわしいものをア～エから1つ選びなさい。



(気象庁データより作成)

問6 空欄（ f ）にあてはまる鳥の名を答えなさい。

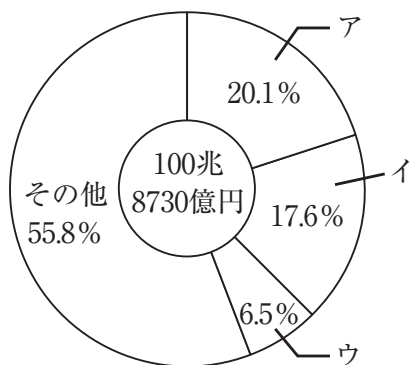
問7 下線部（ g ）にあてはまる湖の名として最もふさわしいものをア～エから1つ選びなさい。

- ア. 中禅寺湖      イ. サロマ湖      ウ. 八郎潟      エ. 諏訪湖

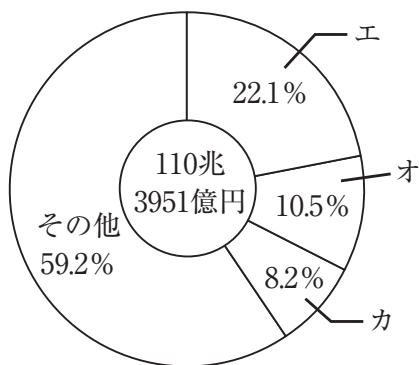
問8 下線部（ h ）に関連して、各問に答えなさい。

- ① 次の2つのグラフでアメリカを示すものを、輸出相手国のグラフはア～ウから、輸入相手国のグラフはエ～カから、それぞれ1つずつ選びなさい。

【日本の輸出相手国（2023年）】



【日本の輸入相手国（2023年）】



（『日本国勢図会 2025/26』より作成）

- ② 1980年代に日米間で貿易摩擦<sup>まさつ</sup>が生じました。日本がアメリカへの輸出を自主的に規制することの他に、当時行われた解決策について「雇用<sup>こよう</sup>」という語句を用いて解答欄に合うように簡潔に説明しなさい。

問9 空欄（ i ）にあてはまる語句を漢字2文字で答えなさい。

問10 下線部（ j ）に関連して、各問に答えなさい。

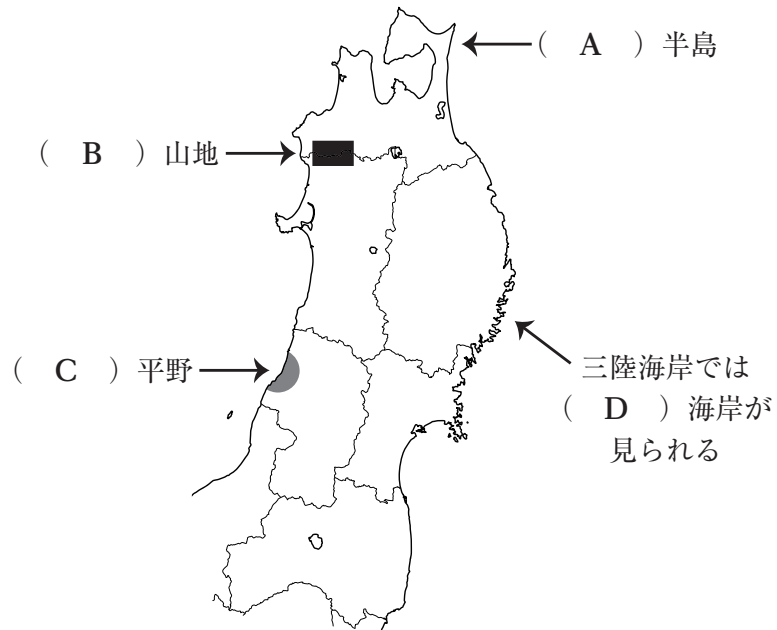
- ① 日本の地形の特色について説明した文としてふさわしくないものをア～エから1つ選びなさい。

- ア. 日本列島は環太平洋造山帯に含まれる。  
イ. 日本列島の周辺には4つのプレートが接している。  
ウ. 日本の国土は約4分の3が山地である。  
エ. 本州中央部を南北に縦断する陸上の大地溝帯を南海トラフという。

- ② 次の文章の下線 (ア) ~ (エ) には明らかに誤っているものが1つあります。その記号を選び、正しく直しなさい。

山の(ア)ふもとに(イ)大きめの土砂がたまってできた扇状地の中央部分は水はけがよく、(ウ)水田になることが多い。代表的なものとして(エ)甲府盆地の扇状地があげられる。

- ③ 次の東北地方の地図を見て、空欄 ( A ) ~ ( D ) にあてはまる語句を答えなさい。



3

日中関係の歴史について述べた次の文を読んで、各問に答えなさい。

日本は古来、(a)中国の進んだ文化や政治の仕組みなどを学び、取り入れてきました。7世紀初めに、(b)聖徳太子(厩戸皇子)は小野妹子に(c)国書を持たせて、遣隋使として派遣しました。

奈良時代には、(d)律令国家の建設がなされ、唐の長安を手本とした(e)平城京がつくられました。平城京内の市では、(f)などの貨幣も流通しており、長安城跡からも同様のものが発見されています。また、何度も渡航に失敗した末に中国から来日した(g)は、平城京内に唐招提寺を建立しました。

10世紀から11世紀には、中国文化の影響を受けながらも日本人の感性に合った(h)国風文化が生み出されました。

問1 下線部(a)に関連して、次の史料A～Cの内容を古い順に並べかえたものとしてふさわしいものをア～カから1つ選びなさい。

- A その国はもとは男子が王で、70～80年国を治めていた。しかし、倭国の争いが長く続いたので国々は協力して1人の女性を王に立てた。名は卑弥呼という。
- B 倭の奴国が貢ぎ物を持ってあいさつに来た。(中略)光武帝は、その使いに印綬を授けた。
- C 海の向こうには倭人がいて、100余りに国が分かれている。貢ぎ物を持って定期的に楽浪郡にやってくる国もあった。

- ア. A→B→C                      イ. A→C→B                      ウ. B→A→C  
エ. B→C→A                      オ. C→A→B                      カ. C→B→A

問2 下線部(b)と協力して政治を進め、仏教を積極的に受け入れようとした人物としてふさわしいものをア～エから1つ選びなさい。

- ア. 大伴家持                      イ. 物部守屋                      ウ. 蘇我馬子                      エ. 崇峻天皇

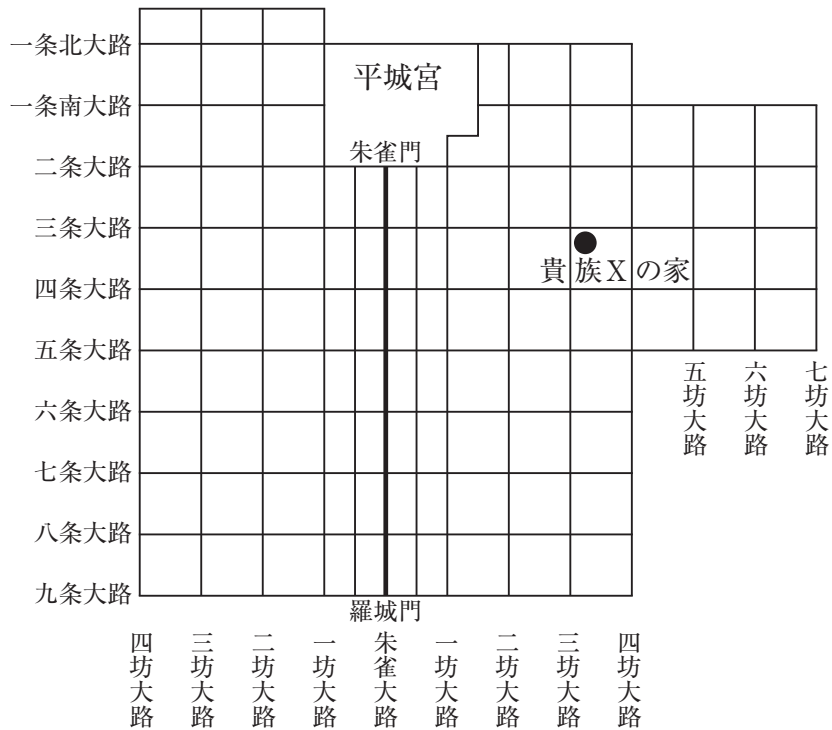
問3 下線部(c)に関連して、次の史料はその内容を示したものです。史料を参考に、聖徳太子の目指した外交を解答欄に合うように漢字2文字で答えなさい。

太陽がのぼる所の天子が、手紙を太陽がしずむ所の天子に送ります。お変わりありませんか。

問4 下線部 (d) に関連して、次の説明文は大宝律令について述べたものです。空欄 ( I )・( II ) にあてはまる語句を答えなさい。ただし、空欄 ( I ) は解答欄に合うように漢数字で答えなさい。

701年に制定された大宝律令は、天皇を中心とする中央集権国家を目指すものである。中央に ( I ) がおかれ、地方は ( II )・郡・里に分けられた。

問5 下線部 (e) に関連して、次の図は平城京の略図です。「貴族Xの家」の場所を示す説明としてふさわしいものをア～エから1つ選びなさい。



- ア. 朱雀門から朱雀大路を進み、三条大路を右京の方に曲がります。三坊大路を過ぎて左手にあります。
- イ. 朱雀門から朱雀大路を進み、四条大路を左京の方に曲がります。六坊大路を過ぎて右手にあります。
- ウ. 羅城門から朱雀大路を進み、七条大路を右京の方に曲がり、一坊大路で北上します。六条大路の手前左手にあります。
- エ. 羅城門から朱雀大路を進み、八条大路を左京の方に曲がり、三坊大路で北上します。三条大路の手前右手にあります。

問6 空欄（ f ）にあてはまる語句としてふさわしいものをア～エから1つ選びなさい。

ア. 永楽通宝    イ. 和同開珎    ウ. 宋銭    エ. 寛永通宝

問7 空欄（ g ）にあてはまる人名を答えなさい。

問8 下線部（ h ）に関連して、『古今和歌集』の編者と内容の組み合わせとしてふさわしいものをア～エから1つ選びなさい。

	編者	内容
ア	藤原定家	天皇や農民の歌が約 4500 首収められている。
イ	藤原定家	光源氏を中心とする貴族の恋愛や生活が描かれている。
ウ	紀貫之	平氏の繁栄から滅亡までが描かれている。
エ	紀貫之	在原業平や小野小町らの歌が収められている。

( i ) 室町時代になると、幕府の貿易船と倭寇の船とを区別するために「( j ) 貿易」を行い、中国との交流が活発になりました。日本からは刀剣や銅などを輸出し、中国からは絹織物や陶磁器とうじきなどが輸入されました。

問9 下線部（ i ）に関連して、各問に答えなさい。

① 室町幕府における将軍を補佐する役職を何というか、ふさわしいものをア～エから1つ選びなさい。

ア. 管領    イ. 執権    ウ. 老中    エ. 摂政

② 応仁の乱の説明として、ふさわしいものをア～エから1つ選びなさい。

ア. 新田義貞が幕府に借金の帳消しを求めた争い。

イ. 将軍の跡継ぎ問題と有力守護大名の対立が絡んで起こった争い。

ウ. 織田信長が幕府を倒すために起こした争い。

エ. 後鳥羽上皇が幕府に対して起こした争い。

問10 空欄（ j ）にあてはまる語句を答えなさい。

江戸幕府は、外交と貿易を統制する中で、清とは(k)長崎で貿易を続けました。  
(1)儒教などの中国思想も、江戸幕府の政治や文化に大きな影響を与えました。19世紀に入ると、清はイギリスとの戦争で敗れました。それを知った日本は、( m )。一方、アメリカが寄港地として日本に目を向けるようになり、日本に開国を迫ってきました。

問 11 下線部 (k) に関連して、江戸時代の長崎での出来事について述べた次の A～C を古い順に並べかえたものとしてふさわしいものをア～カから 1 つ選びなさい。

- A 平戸のオランダ商館を長崎の出島に移した。
- B 田沼意次は長崎で俵物たわらものの輸出を増やすことで財政の立て直しを図った。
- C レザノフが長崎に来航して日本に通商を求めた。

- ア. A→B→C                      イ. A→C→B                      ウ. B→A→C
- エ. B→C→A                      オ. C→A→B                      カ. C→B→A

問 12 下線部 (1) に関連して、5代将軍徳川綱吉は儒学を重んじる政治を行うことで、幕府の権威を高めようとした。儒学のどのような教えが幕府にとって好都合だったか、「～という教え。」に合うように説明しなさい。

問 13 空欄 ( m ) にあてはまるものとしてふさわしいものをア～エから 1 つ選びなさい。

- ア. 外国船に燃料や水を与えるようになった
- イ. 外国船に朱印状を与えて貿易を許可した
- ウ. 外国船を打ち払うようになった
- エ. 外国船の船員を捕らえて唐人屋敷こうそくに拘束した

(n) 明治時代に日清戦争で日本は勝利し、(o) 下関条約を締結しました。さらに、日露戦争後に結んだポーツマス条約では南満州の鉄道を譲り受け、それをきっかけに満州に進出しました。

1931年、(p) 満州にいた関東軍は、中国軍を攻撃して満州を占領し、1937年には日中戦争が始まりました。しかし、中国の人々は日本軍の進出に対して強く抵抗し続け、(q) 戦争は長引いていきました。

戦後、中国はサンフランシスコ講和会議には招かれなかったため日中の国交正常化が遅れましたが、田中角栄内閣の下で ( r ) が発表され、国交が回復しました。

問 14 下線部 (n) に関連して、各問に答えなさい。

- ① 明治時代の出来事としてふさわしくないものをア～エから1つ選びなさい。
- ア. 郵便制度が始まる。
  - イ. 新橋 — 横浜間の鉄道が開通する。
  - ウ. 福沢諭吉が『学問のすゝめ』を刊行する。
  - エ. ラジオ放送が始まる。
- ② 自由民権運動において、立憲改進黨を設立した人物をア～エから1つ選びなさい。
- ア. 伊藤博文    イ. 大隈重信    ウ. 板垣退助    エ. 木戸孝允

問 15 下線部 (o) の内容として、ふさわしくないものをア～エから1つ選びなさい。

- ア. 朝鮮の独立を認める。
- イ. <sup>リャオトン</sup>遼東半島や台湾を日本に譲る。
- ウ. 清が2億テールの賠償金を日本に払う。
- エ. 樺太の南半分を日本の領土とする。

問 16 下線部 (p) に関連して、満州事変のきっかけとなった事件としてふさわしいものをア～エから1つ選びなさい。

- ア. 盧溝橋事件    イ. 柳条湖事件    ウ. 江華島事件    エ. <sup>ちょうさくりん</sup>張作霖爆殺事件

問 17 下線部 (q) に関連して、議会の承認がなくても、戦争遂行に必要な人や物資を動員できる法律が整えられました。その法律を何というか、答えなさい。

問 18 空欄 ( r ) にあてはまる語句を答えなさい。



