

受 験 番 号

令和 8 年度 中学校入学試験問題

社 会 (1 次)

(時間 45 分)

〔注意事項〕

1. 試験開始の合図まで中を開いてはいけません。
2. 受験番号を問題用紙・解答用紙の決められた欄らんに必ず記入しなさい。
3. 問題がぬけていたり、印刷がはっきりしなかったりする場合は申し出なさい。
4. 解答は必ず解答用紙の決められた箇所かしょに記入しなさい。
5. 何か用事のできた時には「はい」と言って手をあげなさい。しかし、問題の内容についての質問はしてはいけません。
6. 漢字を使用すべきところは指定されていないところも含めて、漢字で書きなさい。
7. 選択肢から答えを選ぶ問題は、選択肢の記号で答えなさい。

1 次のカードA～Fは都道府県の説明を書いたもので、地図中あ～すのいずれかにあてはまります。各問に答えなさい。

A

- * 2024年に世界文化遺産に登録された島がある。
- * 日本一長い(a)川が南北に流れる。
- * (b) が全国1位である(2024年)。

B

- * 面積が全国で3番目に小さい。
- * 印刷業の製品出荷額が全国1位である(2022年)。
- * (c) 伝統的工芸品に指定されている工芸品の数が最も多い。

C

- * 2024年に茶(荒茶^{あらちや})の生産量が初めて全国1位になった。
- * 火山灰地である(d)台地で、さつまいもなどが栽培されている。

D

- * 中国地方で最も(e) 人口が多い。
- * 明治時代から(f) 港として発展した(g)は造船業で栄えた。
- * 中国地方に2つある(h) 政令指定都市のうちの1つがある。

E

- * 森林面積の広さが全国1位である(2024年)。
- * (i) 太平洋側を寒流の(j)海流が流れていることと(k)が発生して日光をさえぎることが影響して、太平洋沿岸では冷害が発生しやすい。

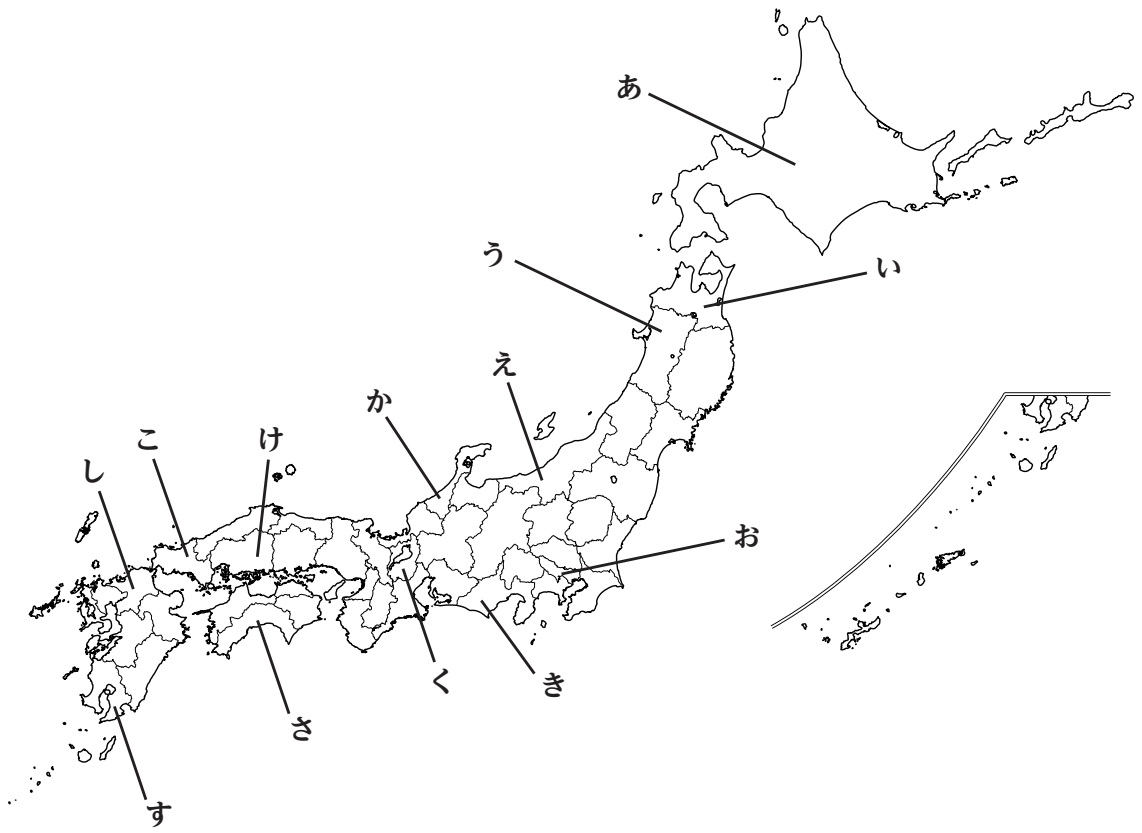
F

- * 2025年に(l)「琵琶湖疏水」^{そすい}の施設が(m)に指定された。
- * 琵琶湖から注ぐ(n) 川は(o) 工業用水など生活や産業に欠かせない重要な水資源となっている。
- * 米原^{まいばら}駅は県内唯一の(p) 新幹線 停車駅である。

問1 空欄(a)にあてはまる川の名を答えなさい。

問2 空欄(b)にあてはまる語句をア～エから1つ選びなさい。

- ア. 市町村の数 イ. りんごの生産量
- ウ. 埋立地の面積 エ. 米の作付面積



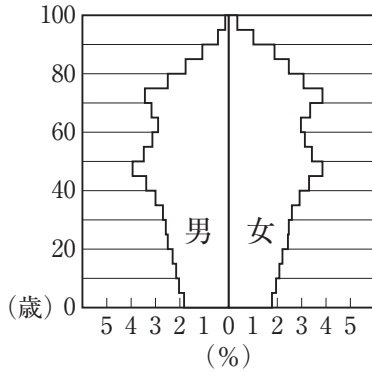
問3 下線部 (c) を説明した文として誤っているものをア～エから1つ選びなさい。

- ア. このような工芸品がない都道府県もある。
- イ. このシンボルマークとして「伝統マーク」がつけられている。
- ウ. 経済産業大臣が指定する。
- エ. 伝統的な技術または技法により製造される必要がある。

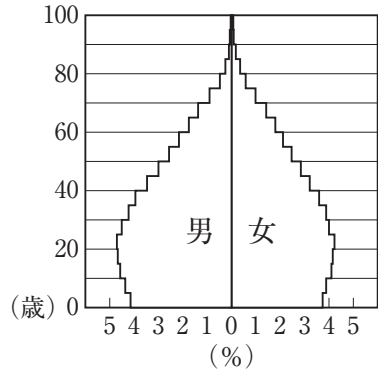
問4 空欄 (d) にあてはまる語句を答えなさい。

問5 下線部 (e) に関連して、次のグラフは日本の1970年・1990年・2020年、インドの2023年の男女別人口構成割合を示したものです。日本の2020年のグラフとしてふさわしいものをア～エから1つ選びなさい。

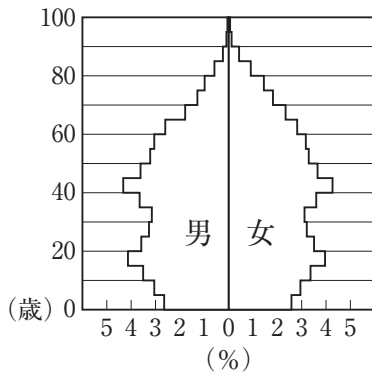
ア



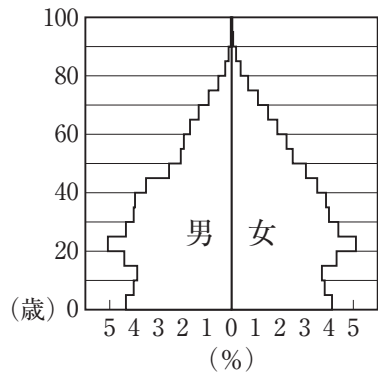
イ



ウ



エ



(『日本国勢図会 2025/26』より)

問6 下線部 (f) に関連して、日本の海運の説明としてふさわしいものをア～エから1つ選びなさい。

- ア. 小型かつ軽量で高価なものを運ぶのに適している。
- イ. 国内旅客輸送全体の約30%を占める。
- ウ. 1980年代中ごろまで国内貨物輸送において輸送量第1位だった。
- エ. 最近では船舶での輸送を自動車に変えるモーダルシフトも注目されている。

問7 空欄 (g) にあてはまる都市をア～エから1つ選びなさい。

- ア. 今治市 (いまばり)
- イ. 倉敷市 (くらしき)
- ウ. 熊野市 (くまの)
- エ. 呉市 (くれ)

問8 下線部 (h) の説明としてふさわしくないものをア～エから1つ選びなさい。

- ア. 市内に区をつくり区役所を設置できる。
- イ. 日本には30の政令指定都市がある。
- ウ. 人口50万人以上の都市である。
- エ. 最も南に位置する政令指定都市は熊本市である。

問9 下線部 (i) に関連して、「海の森」とも呼ばれる、海草が生い茂っている海の浅瀬のことを何というか、ふさわしいものをア～エから1つ選びなさい。

- ア. 魚礁
- イ. 藻場
- ウ. 大陸棚
- エ. 潮目

問10 空欄 (j) にあてはまる語句を答えなさい。

問11 空欄 (k) にあてはまる語句をア～エから1つ選びなさい。

- ア. からっ風
- イ. 台風
- ウ. 濃霧
- エ. 高波

問12 下線部 (l) に関連する次の文を読んで、空欄【 X 】にあてはまる語句を漢字5文字で答えなさい。

「琵琶湖疏水」は琵琶湖の水を京都に運ぶために明治時代につくられたもので、このおかげで京都には日本初の【 X 】ができました。これにより、京都の中小工場の機械化と日本初となる電気鉄道の営業がスタートしました。

問13 空欄 (m) にあてはまる語句をア～エから1つ選びなさい。

- ア. ラムサール条約登録湿地
- イ. 国宝
- ウ. 無形文化遺産
- エ. ノーベル賞

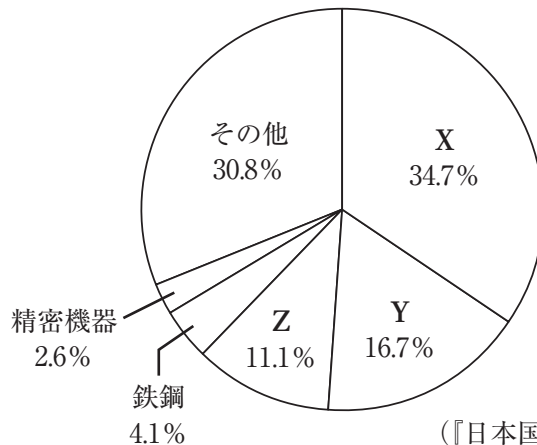
問14 下線部 (n) に関連して、次の表中X・Yは川の下流に見られる輪中・クリークの説明です。輪中についての説明と輪中が見られる平野の組み合わせとしてふさわしいものをア～エから1つ選びなさい。

X	用水と排水をかねた水路
Y	水害に備えて周囲を堤防で囲んだ集落

- ア. X — 筑紫平野
- イ. X — 濃尾平野
- ウ. Y — 筑紫平野
- エ. Y — 濃尾平野

問 15 下線部 (o) に関連して、次のグラフは日本の主要輸出品について示したものです。X・Y・Zには化学製品・自動車・機械類のいずれかがあてはまります。X・Y・Zにあてはまる品目の組み合わせとしてふさわしいものをア～カから1つ選びなさい。

【日本の主要輸出品 (2024 年)】



(『日本国勢図会 2025/26』より作成)

- ア. X — 自動車 Y — 機械類 Z — 化学製品
- イ. X — 自動車 Y — 化学製品 Z — 機械類
- ウ. X — 機械類 Y — 自動車 Z — 化学製品
- エ. X — 機械類 Y — 化学製品 Z — 自動車
- オ. X — 化学製品 Y — 自動車 Z — 機械類
- カ. X — 化学製品 Y — 機械類 Z — 自動車

問 16 下線部 (p) の説明としてふさわしくないものをア～エから1つ選びなさい。

- ア. 茨城県は新幹線が通っているが停車駅がない唯一の都道府県である。
- イ. 九州新幹線は大分県と宮崎県を通る。
- ウ. 最も新しい新幹線の路線は北陸新幹線（金沢～敦賀間）である。
- エ. 東海道新幹線の列車は「のぞみ」「ひかり」「こだま」の3種類である。

問 17 カード A・C・E の都道府県の位置を地図中の あ～す からそれぞれ1つずつ選びなさい。

2

日本の土地の歴史について述べた次の文を読んで、各問に答えなさい。

(a) 縄文時代には、地球環境の変化や道具の発達によって食料の確保が安定し、人々は定住生活に移行しました。弥生時代になると、中国や朝鮮半島から伝わった稲作が本格的に始まります。人々が水田を開拓し、定住して農業を行うことが一般的となり、(b) 豊かな土地や水を求めて争いが起こるようになりました。

問1 下線部 (a) に関連して、貝塚から発見される、縄文時代の生活を伝える出土品としてふさわしくないものをア～エから1つ選びなさい。

- ア. イノシシの頭骨 イ. 魚の骨
ウ. ひすいの玉 エ. 埴輪^{はにわ}の破片

問2 下線部 (b) に関連して、吉野ヶ里遺跡に見られる、集落を守る工夫として最もふさわしいものをア～エから1つ選びなさい。

- ア. 敵の侵攻などを見張るために高床倉庫を建てた。
イ. 周りに堀^{ほり}や柵^{さく}がめぐらされていた。
ウ. 宮殿までは迷路のように道が入り組んでいた。
エ. 山の上に集落を作って攻めにくくしていた。

大化の改新では、これまでの (c) から、公地公民制に変わりました。しかし、この体制は次第にくずれ、8世紀半ば、(d) 聖武天皇が(e) 墾田永年私財法を出したことによって、土地の私有が認められるようになりました。

問3 空欄 (c) にあてはまるものをア～エから1つ選びなさい。

- ア. 土地や人民は誰のものでもない状態
イ. 大名が土地や人民を管理している状態
ウ. 農民が土地や人民を所有している状態
エ. 豪族などが土地や人民を支配している状態

問4 下線部 (d) の理想の国づくりについて述べた文としてふさわしいものをア～エから1つ選びなさい。

- ア. 国の安全を守るため、各地に武士団を置いて軍事力による統治を進めた。
イ. 神道によって人々の信仰をまとめるため、律令政治の安定を図った。
ウ. 天皇の権力を強めるため、東北地方の蝦夷^{えみし}を平定した。
エ. 仏教の力によって国を安定させるため、全国に国分寺の建立を命じた。

問5 下線部 (e) によってどのようなことが起こったか、ふさわしいものをア～エから1つ選びなさい。

- ア. 荒地の開墾が進み、荘園が成立した。
- イ. かんがい設備が整えられ、二毛作が広まった。
- ウ. 1つの私有地に1つの城を築けるようになった。
- エ. その土地の権力者の古墳を建てられるようになった。

(f)1185年、源頼朝は後白河法皇から(g)守護と地頭の任命権を得ました。こうして鎌倉に幕府が成立します。幕府支配の基本は、土地を介して将軍と御家人との間に結ばれた主従関係にあります。しかし、(h)モンゴルの襲来しゅうらいの後、御家人は領地をほとんど与えらず、幕府への不満つひを募らせました。

問6 下線部 (f) に源氏が平氏を滅ぼした戦いはどこで起こったか、現在の都道府県名で答えなさい。

問7 下線部 (g) の説明としてふさわしいものをア～エから1つ選びなさい。

- ア. 領地に1人ずつ置かれ、朝廷の役人となった。
- イ. 領地に1人ずつ置かれ、年貢の取り立てなどを行った。
- ウ. 国ごとに1人ずつ置かれ、村の運営を行った。
- エ. 国ごとに1人ずつ置かれ、軍事や警察の仕事を行った。

問8 下線部 (h) の理由を説明しなさい。

15世紀半ば、(i)室町幕府の力が衰え、実力のある者が領地の支配をめぐる争い合う戦国の世となりました。かれらは(j)戦国大名と呼ばれ、その中で力を持った織田信長、(k)豊臣秀吉、徳川家康の3人の武将が天下統一への道を目指しました。

問9 下線部 (i) に関連して、室町時代の文化について述べた文としてふさわしくないものをア～エから1つ選びなさい。

- ア. 千利休が日常生活を題材とした能を完成させた。
- イ. 雪舟が日本の水墨画を確立した。
- ウ. 枯山水の技法を用いた庭園が作られた。
- エ. 銀閣にも見られる書院造は現代の和室の原型となった。

問 10 下線部 (j) が領国を統制するために定めた独自の法を何というか、漢字 3 文字で答えなさい。

問 11 下線部 (k) が行った検地について、検地帳に書かれている内容としてふさわしくないものをア～エから 1 つ選びなさい。

- ア. 年貢を納める期限 イ. 土地の良し悪し
ウ. 耕す人の名前 エ. 田畑の面積

17 世紀半ば、将軍と大名が全国を支配する (l) 幕藩体制 が成立しました。幕府は関東と (m) 畿内、そしてそれらを結ぶ東海・甲信越地方などを勢力圏とし、将軍家や旗本などの領地をこれらの地域に集中させました。(n) 大阪 など重要な場所も幕府が直接治めました。大名は徳川家との関係の深さに応じて親藩・外様・譜代に区別され、全国に配置されました。こうした枠組みは (o) 明治政府が誕生するまで 続いていきます。

問 12 下線部 (l) は、3 代将軍徳川家光のころまでに確立しました。徳川家光の政策としてふさわしいものをア～エから 1 つ選びなさい。

- ア. 公事方御定書で裁判の基準を示した。
イ. 武家諸法度に参勤交代の制度を加えた。
ウ. 生き物の殺生を禁じる生類憐みの令を出した。
エ. 目安箱を設置し庶民の声を政治に取り入れた。

問 13 下線部 (m) に関連して、上方中心の元禄文化を代表する人物と、その作品の組み合わせとしてふさわしいものをア～エから 1 つ選びなさい。

- ア. 十返舎一九 — 『富嶽三十六景』 イ. 葛飾北斎 — 『東海道中膝栗毛』
ウ. 近松門左衛門 — 『曾根崎心中』 エ. 松尾芭蕉 — 『古事記伝』

問 14 下線部 (n) の説明としてふさわしいものをア～エから 1 つ選びなさい。

- ア. 「千年の都」といわれる文化の中心地であった。
イ. 「天下の台所」といわれる商業の中心地であった。
ウ. 「将軍のおひざ元」といわれる政治の中心地であった。
エ. 「豊かな米どころ」といわれる農業の中心地であった。

問 15 下線部 (o) に関連して、各問に答えなさい。

- ① 薩摩藩出身で、薩長同盟を結んだ際に活躍し、岩倉使節団の一員として派遣された人物は誰か、答えなさい。
- ② 版籍奉還について述べた文としてふさわしいものをア～エから1つ選びなさい。
- ア. 藩を廃止して府県を設置する。
 - イ. 地価を定めてその3%を現金で納める。
 - ウ. 6歳以上の男女に口分田を貸し出す。
 - エ. 大名が支配していた土地と人民を天皇に返す。

(p) 第二次世界大戦後、日本はアメリカを中心とした連合軍に占領されました。その占領政策の1つとして、(q) 改革があります。政府は地主から土地を買い取って、自分の土地を持たない農民に (q) として安い値段で売りわたしました。

1951年、日本は(r) サンフランシスコ平和条約を結んで 独立を回復、1972年には沖縄が返還され、現在の日本の形になりました。

問 16 下線部 (p) に関連して、太平洋戦争中の国民の生活について述べた文としてふさわしくないものをア～エから1つ選びなさい。

- ア. 空襲が本格化すると地方の子供は都会に疎開^{そかい}させられた。
- イ. 兵器を生産するために鍋や釜^{かま}などが国民から集められた。
- ウ. それまで兵役を免除されていた大学生が徴兵される学徒出陣が行われた。
- エ. 中学生や女学生も軍需工場などに動員された。

問 17 空欄 (q) にあてはまる最もふさわしい語句を漢字2文字で答えなさい。

問 18 下線部 (r) の際の内閣総理大臣をア～エから1つ選びなさい。

- ア. 佐藤栄作
- イ. 岸信介
- ウ. 吉田茂
- エ. 池田勇人

3 ちひろさんとゆいさんが鎌倉について調べた内容を発表しています。この発表を読んで、各問に答えなさい。

ちひろ：私たちの学校である鎌倉女学院は鎌倉市にあります。鎌倉市は自然が豊かであるとともに簡易(a)裁判所や(b)税務署などの様々な公共機関もあります。鎌倉市について興味を持ったため、色々と調べてみました。

ゆい：鎌倉市の誕生は1939年。鎌倉町と腰越町こしこえが合併したことにより始まりました。以後、多くの動きや取り組みがありました。

ちひろ：1958年に平和都市宣言が鎌倉(c)市議会しぎかいの全会一致で採択されました。その中で、(d)核兵器の廃絶と(e)世界恒久平和こうきゅうの確立が宣言されました。

ゆい：1964年には鶴岡八幡宮裏山の開発問題がおこりました。そして、この開発を懸念けねんした市民が反対運動を展開し、わずか1週間で2万をこえる署名が集まり、(f)と呼ばれる、市民が財産を出し合って自然環境などを守る活動へと広がっていきました。この動きをきっかけに、歴史的風土を守るため1966年に(g)保存法が制定されました。この法律は鎌倉市だけでなく、京都市や奈良市なども対象となっています。

ちひろ：鎌倉市は身近な(h)環境に配慮していて、ごみのリサイクルにも力を入れています。

ゆい：東日本大震災の教訓を踏まえ、2013年に(i)地域防災計画の改定も行われました。

ちひろ：2018年には(j)SDGs未来都市に選ばれました。また、日本、中国、韓国の各都市から選ばれる東アジア文化都市にも2025年の1年間選定され、文化芸術による(k)国際的な発展が期待されています。

ゆい：鎌倉市を調べてみると色々な取り組みをしていることが分かりました。今後もしサーチを続けていきたいです。

問1 下線部(a)に関連して、次の文は、ちひろさんとゆいさんたちが授業で行った模擬裁判の脚本の一部です。これは民事裁判または刑事裁判のどちらか、解答欄のふさわしい方を○で囲みなさい。また、そのように判断した理由を適切な語句を使って句読点を含めて10字以上15字以内で答えなさい。

裁判官：弁護人は、検察官の起訴状に対して何かありませんか。

弁護人：はい、いくつか質問があります。

問2 下線部 (b) に関する説明としてふさわしいものをア～エから1つ選びなさい。

- ア. 都道府県や市町村が集める税を公債金^{こうさい}という。
- イ. 納税者と負担者が一致する税を間接税という。
- ウ. 所得税には所得が多いほど税率を高くする累進課税^{るい}が適用されている。
- エ. 消費税は所得の少ない人ほど所得に占める税負担の割合が低くなる。

問3 下線部 (c) に関連して、各問に答えなさい。

① 年齢条件が市町村議会議員の被選挙権とは異なるものをア～エから1つ選びなさい。

- ア. 衆議院議員
- イ. 都道府県知事
- ウ. 市町村長
- エ. 都道府県議会議員

② 地方公共団体の住民が条例の制定・改廃を請求するにはどのような手続きが必要であるか、ふさわしいものをア～エから1つ選びなさい。

- ア. 有権者の3分の1以上の署名を集め、地方議会に請求する。
- イ. 有権者の3分の1以上の署名を集め、首長に請求する。
- ウ. 有権者の50分の1以上の署名を集め、地方議会に請求する。
- エ. 有権者の50分の1以上の署名を集め、首長に請求する。

問4 下線部 (d) に関連して、2017年に国連で採択された核兵器の開発や保有、使用などを全面的に禁じた条約の名を答えなさい。 ※日本政府は署名していません。

問5 下線部 (e) に関連して、次の日本国憲法の条文を読んで、各問に答えなさい。

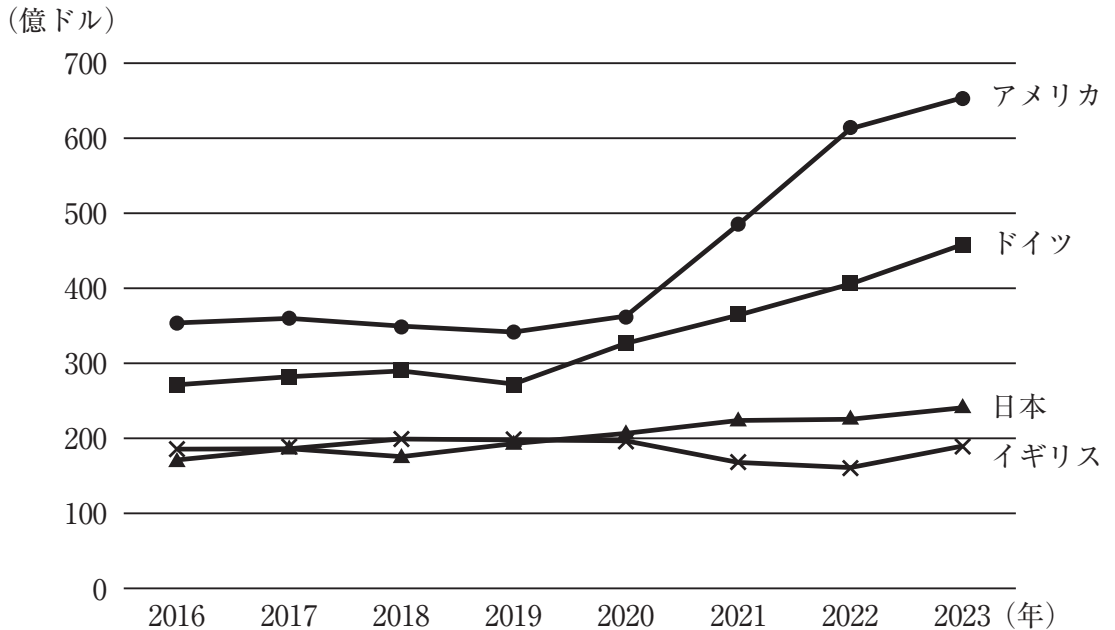
第 (X) 条

- ① 日本国民は、正義と秩序を基調とする国際平和を誠実に希求し、国権の発動たる戦争と、(Y) による威嚇^{いかく}又は (Y) の行使は、国際紛争を解決する手段としては、永久にこれを放棄する。
- ② 前項の目的を達するため、(Z) 陸海空軍その他の戦力は、これを保持しない。国の交戦権は、これを認めない。

① 空欄 (X) にあてはまる数字を答えなさい。

② 空欄 (Y) にあてはまる語句を答えなさい。

② 次のグラフは、日本、アメリカ、イギリス、ドイツの4か国の2016年から2023年までの政府開発援助の実績額の推移（支出総額ベース）を示したものです。このグラフから読み取れることとして最もふさわしいものをア～エから1つ選びなさい。



(外務省資料より作成)

- ア. 日本の実績額は常にアメリカの実績額の半分以下である。
- イ. 日本の実績額は常に増え続けている。
- ウ. 日本の実績額は2017年にイギリスの実績額を上回り、それ以降日本はイギリスを上回り続けている。
- エ. 日本の実績額は常にドイツの実績額を下回っている。

